

Påskeløb – Gange & Deling



Post 1

Påskeharen har 20 påskeæg, som 5 børn skal dele. Hvor mange får de hver?

©MarieProschowsky – mariemarie.dk




Post 2

Bondemanden kan tælle 60 ben i alt på sine påskelam. Hvor mange påskelam har han?

©MarieProschowsky – mariemarie.dk

Påskeløb – Gange & Deling


Post 3



9 høns får hver 5 påskekyllinger. Hvor mange kyllinger er der i alt?

©MarieProschowsky – mariemarie.dk


Post 4



Daniel, Tobias og Alva skal dele 18 tulipaner, hvor mange får de hver?

©MarieProschowsky – mariemarie.dk

Påskeløb – Gange & Deling




Post 5

Bondemandens høns får hver 5 kyllinger. De får 40 påskekyllinger til sammen. Hvor mange høns er der i alt?

©MarieProschowsky – mariemarie.dk


Post 6



Der er 7 vaser med hver 5 tulipaner i. Hvor mange tulipaner er der i alt?

©MarieProschowsky – mariemarie.dk


Påskeløb – Gange & Deling



Post 7

Påskeharen har delt påskeæg ud til 6 børn. De fik 6 påskeæg hver. Hvor mange påskeæg havde påskeharen?

©MarieProschowsky – mariemarie.dk




Post 8

På en mark står 33 påskeliljer. Emma, Marie og Alva plukker lige mange hver. Hvor mange plukker Alva?

©MarieProschowsky – mariemarie.dk

Påskeløb – Gange & Deling



Post 9

Emma, Marie og Alva plukker hver 11 påskeliljer. Hvor mange påskeliljer har de plukket til sammen?

©MarieProschowsky – mariemarie.dk

Post 10




Påskeharen pakker sine 42 påskeæg i kurve, med 6 æg i hver. Hvor mange kurve med påskeæg er der?

©MarieProschowsky – mariemarie.dk

Påskeløb – Gange & Deling

Post 11



18 får får hver 2 påskelam. Hvor mange påskelam er der i alt?

©MarieProschowsky – mariemarie.dk

Post 12



Daniel, David, Johan, Emil, Tobias, Conrad og Claus samler hver 9 påskeæg. Hvor mange æg har de til sammen?

©MarieProschowsky – mariemarie.dk